
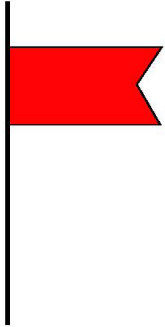













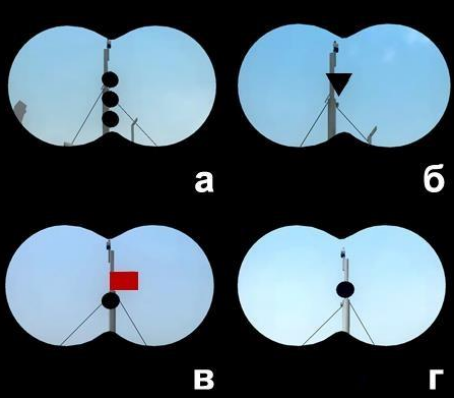
1.2 Правила плавания маломерных судов




No	Вопрос	Иллюстрация	Варианты ответа (правильный выделен)
1.	Что обозначает изображенный на иллюстрации знак?	 A photograph showing a black ball on a mast against a sunset sea background. The ball is a solid black circle, and the mast is a thin vertical line. The background shows a calm sea under a sky with orange and yellow hues.	<ul style="list-style-type: none"><li>• Судно, стоящее на якоре</li></ul>
2.	Что обозначает изображенный на иллюстрации знак «БРАВО» из МСС-69?	 A red pennant flag on a mast. The flag is a solid red shape with a swallowtail end, mounted on a thin vertical black line.	<ul style="list-style-type: none"><li>• Судно, осуществляющее перевозку опасных грузов</li></ul>




3.	<p>Что обозначают изображенные на иллюстрации знаки?</p>		<ul style="list-style-type: none"> <li>• Судно, лишенное возможности управляться</li> </ul>
4.	<p>Что обозначает изображенный на иллюстрации знак?</p>		<ul style="list-style-type: none"> <li>• Судно, идущее под парусом и одновременно использующее силовую (механическую) установку</li> </ul>
5.	<p>Что означают непрерывно повторяющиеся продолжительные сигналы либо непрерывные частые удары в колокол или металлический предмет, подаваемые судном?</p>		<ul style="list-style-type: none"> <li>• Сигнал бедствия</li> </ul>




6.	Какие действия должно предпринять судно, которому уступают дорогу?		<ul style="list-style-type: none"><li>• <b>Сохранить свои курс и скорость</b></li></ul>
7.	Должно ли маломерное моторное судно на ходу уступить дорогу парусному судну?		<ul style="list-style-type: none"><li>• <b>Должно в любом случае</b></li></ul>
8.	По какому борту одно маломерное судно должно обгонять другое маломерное судно?		<ul style="list-style-type: none"><li>• <b>По левому борту обгоняемого судна</b></li></ul>

9.	Если два маломерных моторных судна идут пересекающимися курсами так, что возникает опасность столкновения, какое судно должно уступить дорогу другому судну?		<ul style="list-style-type: none"><li>• Судно, которое наблюдает другое судно по своему правому борту</li></ul>
10.	Как должны маневрировать маломерные суда для расхождения друг с другом на акватории, не имеющей судоходной обстановки?		<ul style="list-style-type: none"><li>• Так, чтобы разойтись левыми бортами</li></ul>
11.	Что означает поднятый на судне сигнал?		<ul style="list-style-type: none"><li>• Судно терпит бедствие и нуждается в помощи</li></ul>




<p>12.</p>	<p>Что означает изображенный на иллюстрации знак, выставленный на парусном судне?</p>		<ul style="list-style-type: none"> <li>• Судно идет под парусом и мотором одновременно</li> </ul>
<p>13.</p>	<p>Что означает знак, выставленный на судне?</p>		<ul style="list-style-type: none"> <li>• Судно стоит на якоре</li> </ul>
<p>14.</p>	<p>Какой из изображенных на иллюстрации сигналов несет судно, терпящее бедствие?</p>		<ul style="list-style-type: none"> <li>• в</li> </ul>

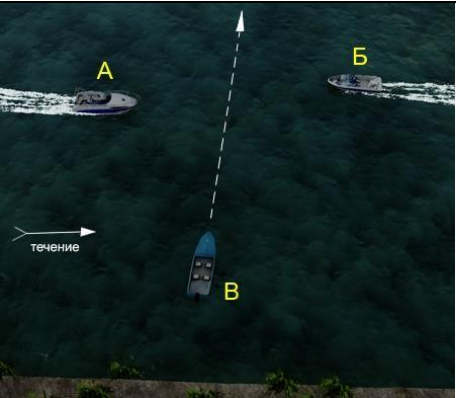


15.	<p>Что означает звуковой сигнал из трех продолжительных звуков?</p>		<ul style="list-style-type: none"> <li>• <b>Человек за бортом</b></li> </ul>
16.	<p>Что означает звуковой сигнал – серия, не менее пяти коротких звуков?</p>		<ul style="list-style-type: none"> <li>• <b>Предупреждение</b></li> </ul>
17.	<p>Какое судно несет на наиболее видном месте сигнал - черный конус вершиной вниз?</p>		<ul style="list-style-type: none"> <li>• <b>Судно, идущее под парусом и одновременно использующее силовую установку</b></li> </ul>




<p>18.</p>	<p>Какие из перечисленных сигналов может подавать терпящее бедствие судно, которое просит о помощи?</p>		<ul style="list-style-type: none"> <li>• Ракеты красного цвета;</li> <li>• Частое мигание круговым огнем или вертикальное перемещение огня;</li> <li>• Медленное повторяемое поднятие и опускание вытянутыми в сторону руками</li> </ul>
<p>19.</p>	<p>Какое из перечисленных маломерных судов на ходу показывает белый круговой огонь при приближении к нему других судов?</p>		<ul style="list-style-type: none"> <li>• Шлюпки судов</li> </ul>
<p>20.</p>	<p>Какое значение имеет звуковой сигнал из одного короткого звука?</p>		<ul style="list-style-type: none"> <li>• Я изменяю свой курс вправо</li> </ul>

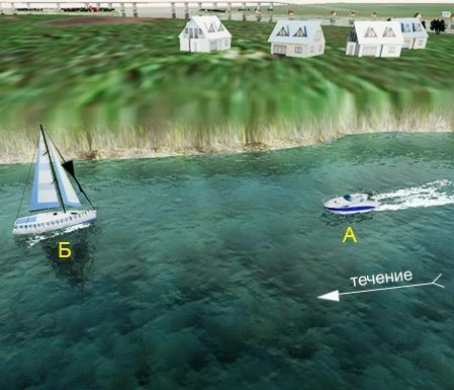


21.	Какое значение имеет звуковой сигнал из двух коротких звуков?		<ul style="list-style-type: none"> <li>• Я изменяю свой курс влево</li> </ul>
22.	Какое значение имеет звуковой сигнал из трех коротких звука?		<ul style="list-style-type: none"> <li>• Мои движители работают на задний ход</li> </ul>
23.	Какой из звуковых сигналов в условиях ограниченной видимости подает одиночное судно на якоре?		<ul style="list-style-type: none"> <li>• б</li> </ul>



24.	<p>Какое значение имеет звуковой сигнал - один продолжительный звук, подаваемый судном в условиях ограниченной видимости?</p>		<ul style="list-style-type: none"> <li>• <b>Одиночные суда в движении</b></li> </ul>
25.	<p>Какое значение имеет звуковой сигнал - 1 короткий, 1 продолжительный и 1 короткий звуки, подаваемый судном в условиях ограниченной видимости?</p>		<ul style="list-style-type: none"> <li>• <b>Одиночные суда или составы на якоре или на мели в пределах судового хода</b></li> </ul>
26.	<p>Какое значение имеет звуковой сигнал - частые удары в колокол или металлический предмет, подаваемый судном в условиях ограниченной видимости?</p>		<ul style="list-style-type: none"> <li>• <b>Несамоходное судно с экипажем на якоре или на мели в пределах судового хода</b></li> </ul>

<p>27.</p>	<p>Какие действия должен предпринять судоводитель маломерного судна "В"?</p>		<ul style="list-style-type: none"> <li>• Осуществить пропуск судов «А» и «Б»</li> </ul>
<p>28.</p>	<p>Какому из маломерных судов "А" и "В" должно уступить дорогу парусное судно "Б"?</p>		<ul style="list-style-type: none"> <li>• Ни одному из судов</li> </ul>
<p>29.</p>	<p>Какие действия должен предпринять судоводитель маломерного судна "А" при выходе из базы стоянки?</p>		<ul style="list-style-type: none"> <li>• Пропустить «Б» и «В» и начать движение</li> </ul>

30.	<p>Как называется маневр, связанный с прохождением одного судна относительно другого при встречном плавании?</p>		<ul style="list-style-type: none"> <li>• <b>Расхождение</b></li> </ul>
31.	<p>Что должен сделать судоводитель маломерного судна при резком ухудшении видимости, если судно имеет устройство для подачи звуковых сигналов, но не оборудовано исправными радиолокационной и радиотелефонной установками?</p>		<ul style="list-style-type: none"> <li>• <b>Прекратить движение</b></li> </ul>
32.	<p>Как должен производиться обгон маломерным судном другого маломерного судна?</p>		<ul style="list-style-type: none"> <li>• <b>По левому борту обгоняемого судна</b></li> </ul>

<p>33.</p>	<p>Какое из маломерных судов имеет преимущество при расхождении?</p>		<ul style="list-style-type: none"> <li>• Ни одно из них</li> </ul>
<p>34.</p>	<p>Какие действия должен предпринять судоводитель маломерного судна "А", если для него становится очевидным, что судно "Б" не предпринимает соответствующих действий для избежания столкновения?</p>		<ul style="list-style-type: none"> <li>• Должен предпринять меры для избежания столкновения собственным маневром</li> </ul>
<p>35.</p>	<p>Как называется частный случай расхождения, когда хотя бы одно из судов остановилось или уменьшило скорость до минимальной?</p>		<ul style="list-style-type: none"> <li>• «Пропуск»</li> </ul>