





3.1. Основы навигации и радиосвязи в районе плавания

No	Вопрос	Иллюстрация	Варианты ответа (правильный выделен)	Основание правильного ответа
1.	На каком из указанных УКВ каналов должно вестись постоянное наблюдение?		<ul style="list-style-type: none">• На 5 канале	
2.	На каком из указанных УКВ каналов передаются радиотелефонные сигналы срочности?		<ul style="list-style-type: none">• На 5 канале	

3.	На каком из указанных УКВ каналов передаются радиотелефонные сигналы безопасности?		<ul style="list-style-type: none">• На 5 канале	
4.	На каком из указанных УКВ каналов ведется радиообмен при бедствии?		<ul style="list-style-type: none">• На 5 канале	
5.	На каком из указанных УКВ каналов передаются радиотелефонные сигналы бедствия?		<ul style="list-style-type: none">• На 5 канале	

<p>6.</p>	<p>На каком из указанных каналов осуществляется радиотелефонная связь с диспетчером шлюза?</p>		<ul style="list-style-type: none"> • На 3 канале 	
<p>7.</p>	<p>В каком случае необходимо передать сигнал бедствия?</p>		<ul style="list-style-type: none"> • Если судно находится под угрозой серьезной и неминуемой опасности и ему требуется немедленная помощь 	
<p>8.</p>	<p>В каком случае категорически запрещается передача сигналов бедствия, срочности и безопасности?</p>		<ul style="list-style-type: none"> • Без действительной необходимости 	




9.	Выберите правильный формат вызова при бедствии, передаваемого по радиотелефону.		<ul style="list-style-type: none"> • Слово "БЕДСТВИЕ", передаваемое три раза; слово "ГОВОРИТ", передаваемое один раз; название судна, передаваемое три раза 	
10.	Что следует предпринять, если радиостанция судна, терпящего бедствие, не получит ответ на вызов и сообщение о бедствии на 5 канале УКВ?		<ul style="list-style-type: none"> • Повторить сообщение на любом другом канале, на котором можно привлечь внимание 	
11.	До каких пор следует повторять вызов и сообщение о бедствии?		<ul style="list-style-type: none"> • До тех пор, пока не будет получено подтверждение о приеме 	


<p>12.</p>	<p>Какая команда применяется для прекращения передач, мешающих аварийному радиотелефонному обмену?</p>		<ul style="list-style-type: none"> • «ПРЕКРАТИТЕ ПЕРЕДАЧУ», «БЕДСТВИЕ» 	
<p>13.</p>	<p>Какая фраза передается в сообщении, передаваемом по окончании радиообмена в случае бедствия?</p>		<ul style="list-style-type: none"> • «ОБМЕН О БЕДСТВИИ ОКОНЧЕН» 	
<p>14.</p>	<p>Над каким сигналом НЕ имеет приоритет сигнал СРОЧНОСТИ?</p>		<ul style="list-style-type: none"> • БЕДСТВИЯ 	




<p>15.</p>	<p>В течение какого времени радиостанции, принявшие сигнал срочности, должны продолжать наблюдение за этой передачей?</p>		<ul style="list-style-type: none"> • Не менее 3-х минут 	
<p>16.</p>	<p>Каким сигналом предваряется сообщение о важных гидрометеорологических предупреждениях, изменениях навигационной и путевой обстановки?</p>		<ul style="list-style-type: none"> • БЕЗОПАСНОСТИ 	
<p>17.</p>	<p>Когда береговой радиостанцией передаются предупреждения о штормах?</p>		<ul style="list-style-type: none"> • В ближайший сеанс передачи метеообщений по расписанию 	




18.	Как часто необходимо сверять показания часов с сигналами точного времени?		<ul style="list-style-type: none">• Не реже двух раз в сутки	
19.	Какое время принято на внутренних водных путях Российской Федерации?		<ul style="list-style-type: none">• Единое московское время	
20.	Что необходимо сделать судоводителю перед радиотелефонным вызовом?		<ul style="list-style-type: none">• Проверить, не занята ли вызываемая станция обменом	

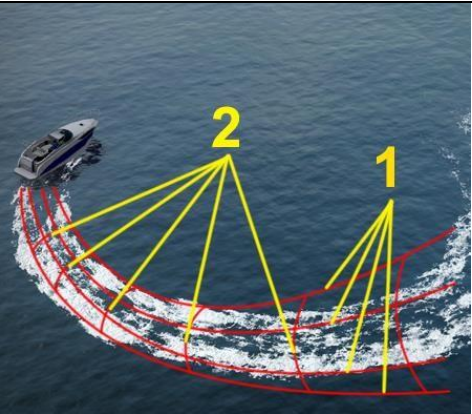
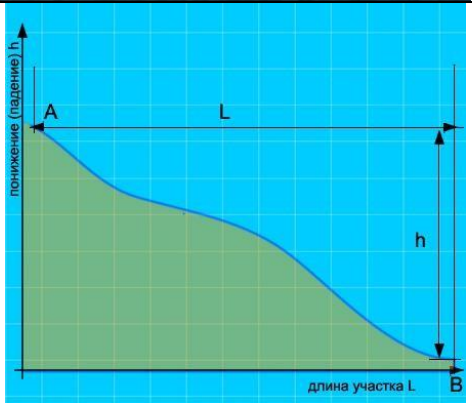

21.	<p>Что необходимо предпринять судоводителю при осуществлении вызова в случае плохого прохождения связи или неразборчивости?</p>		<ul style="list-style-type: none"> • Повторить вызов 2-3 раза 	
22.	<p>Через какое время может быть повторен вызов после безрезультатной попытки установления связи?</p>		<ul style="list-style-type: none"> • Через 2 мин. 	
23.	<p>Что следует предпринять судоводителю, если был принят вызов, но нет уверенности, что этот вызов предназначен радиостанции его судна?</p>		<ul style="list-style-type: none"> • Не отвечать до тех пор , пока вызов не будет повторен и понят 	



24.	Какой служебной фразой при ведении радиотелефонного обмена оценивается качество радиосвязи?		<ul style="list-style-type: none"> • Слышу хорошо (удовлетворительно, плохо) 	
25.	Какие документы должны находиться на маломерном судне, оборудованном УКВ радиостанцией?		<ul style="list-style-type: none"> • Правила радиосвязи на внутренних водных путях Российской Федерации; Разрешение на право пользования судовой радиостанцией; Указания по организации судовой радиосвязи в бассейне (регионе). 	
26.	Как правильно передать слово «ДЕЛЬТА» при плохих условиях приема?		<ul style="list-style-type: none"> • Дмитрий, Елена, Леонид, Мягкий знак, Татьяна, Анна 	



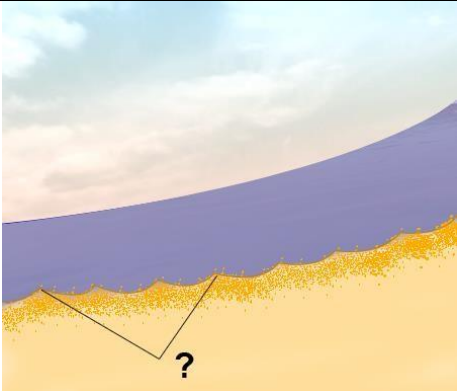
27.	Что обязан сделать судоводитель маломерного судна при приеме сигнала бедствия?		<ul style="list-style-type: none"> • Прекратить все передачи, доложить капитану судна (если предусмотрено штатным расписанием) и произвести запись в вахтенном журнале 	
28.	При подходе к работающему на судовом ходу дноуглубительному или дноочистительному снаряду судно должно		<ul style="list-style-type: none"> • На расстоянии не менее 1 км должно подать звуковой сигнал "Внимание" и согласовать по УКВ радиосвязи сторону прохода 	
29.	При расхождении судно, идущее вверх, первым заблаговременно должно		<ul style="list-style-type: none"> • Согласовать свои действия по радиотелефонной связи и подать отмашку с левого борта 	
30.	Укажите звуковой сигнал, который необходимо подать, если необходимо вызвать на радиосвязь другое судно		<ul style="list-style-type: none"> • Один продолжительный, один короткий и один продолжительный звуки 	
31.	При движении по затруднительному и не просматриваемому участку судно должно		<ul style="list-style-type: none"> • Информировать по радиотелефонной связи о своем местонахождении и через 2-3 минуты подавать звуковой сигнал: один продолжительный звук 	




32.	Как называется место начала реки?		<ul style="list-style-type: none"> • Исток 	
33.	Под каким номером на рисунке обозначен урез воды?		<ul style="list-style-type: none"> • 1 	
34.	Как называется невысокий обрывистый, как правило, вогнутый берег?		<ul style="list-style-type: none"> • Яр 	




35.	Как называется крутой и короткий изгиб русла в пределах долины реки?		<ul style="list-style-type: none">• Колено	
36.	Как называется длинный изгиб русла вместе с долиной реки?		<ul style="list-style-type: none">• Лука	
37.	Как называется столкновение струй двух водных потоков (слияние рукавов)?		<ul style="list-style-type: none">• Спорные воды	

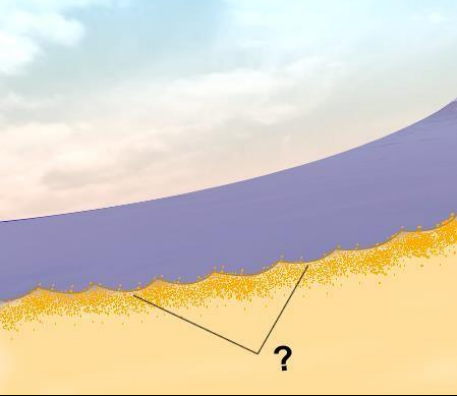


<p>38.</p>	<p>Как называются судовые волны, обозначенные на рисунке под номерами "1" и "2"?</p>		<ul style="list-style-type: none"> • Расходящиеся (1) и поперечные (2) кормовые 	
<p>39.</p>	<p>Какая зависимость между продольным уклоном поверхности воды и скоростью течения воды в реке?</p>		<ul style="list-style-type: none"> • Скорость течения возрастает с увеличением продольного уклона 	
<p>40.</p>	<p>Как называется течение, которое создается у берега на участках, где слив воды направлен к берегу, и вызывает раскат судов в сторону берега?</p>		<ul style="list-style-type: none"> • Прижимное 	




41.	<p>Как называется вращательное движение воды в реке, возникающее, как правило, за выступами берегов, мысами, выпуклыми берегами, мостовыми опорами, дамбами?</p>		<ul style="list-style-type: none"> • Суводь 	
42.	<p>Как называется неправильное течение, которое представляет собой слив воды, направленный под углом к судовому ходу, и возникающее из-за разности в уровнях воды по ширине реки?</p>		<ul style="list-style-type: none"> • Свальное 	
43.	<p>Как называется неправильное (беспорядочное) вращательное течение в реке, вызываемое либо столкновением струй двух водных потоков (спорными водами), либо наличием на дне реки крупных предметов?</p>		<ul style="list-style-type: none"> • Майдан 	




<p>44.</p>	<p>Какой из этих изгибов реки называется "лука"?</p>		<ul style="list-style-type: none"> • г) 	
<p>45.</p>	<p>Как называется подводный глинистый выступ?</p>		<ul style="list-style-type: none"> • Печина 	
<p>46.</p>	<p>Как называется скопление наносов, отложенных в виде подводной гряды по ширине русла?</p>		<ul style="list-style-type: none"> • Перекат 	




<p>47.</p>	<p>Как называется вращательное движение воды за подводным или надводным выступом?</p>		<ul style="list-style-type: none"> • Суводь 	
<p>48.</p>	<p>Как называется наносное (без растительности) образование в русле, омываемое водой со всех сторон?</p>		<ul style="list-style-type: none"> • Осередок 	
<p>49.</p>	<p>Как называется клиновидное отложение наносов, образованное у выпуклого берега и расположенное под углом к нему вниз по течению?</p>		<ul style="list-style-type: none"> • Коса 	




<p>50.</p>	<p>Как называется песчаная отмель – бугор в русле реки?</p>		<ul style="list-style-type: none"> • Шальга 	
<p>51.</p>	<p>Как называется одиночный камень больших размеров в русле реки?</p>		<ul style="list-style-type: none"> • Одинец 	
<p>52.</p>	<p>Как называется небольшое обособленное скопление камней недалеко от берега?</p>		<ul style="list-style-type: none"> • Огрудки 	



<p>53.</p>	<p>Как называется глубоководный участок реки между двумя перекатами?</p>		<ul style="list-style-type: none"> • Плёс 	
<p>54.</p>	<p>Как называется большое скопление камней в русле либо каменная коса?</p>		<ul style="list-style-type: none"> • Гряда 	
<p>55.</p>	<p>Как называется часть речной долины, затопляемая при половодье (1 и 2)?</p>		<ul style="list-style-type: none"> • Пойма 	

<p>56.</p>	<p>Как называется старое русло, спрямленное новым руслом и изолированное от него?</p>		<ul style="list-style-type: none"> • Старица 	
<p>57.</p>	<p>Как называется часть реки, которая образовалась при разделении русла островом?</p>		<ul style="list-style-type: none"> • Рукав 	
<p>58.</p>	<p>Как называется течение из главного русла, направляющееся в боковые протоки у их входов?</p>		<ul style="list-style-type: none"> • Затяжное 	



<p>59.</p>	<p>Как называется выработанное речным потоком ложе, по которому осуществляется сток воды при самых низких уровнях?</p>		<ul style="list-style-type: none"> • Русло 	
<p>60.</p>	<p>Как называется участок земной поверхности, ограничивающий долину реки с боков?</p>		<ul style="list-style-type: none"> • Коренной берег 	
<p>61.</p>	<p>Как называется часть старого русла, соединенное с действующим?</p>		<ul style="list-style-type: none"> • Затон 	



62.	<p>Как называется условная линия, соединяющая на водной поверхности реки точки с наибольшей глубиной русла и максимальными скоростями течения?</p>		<ul style="list-style-type: none"> • Стрежень 	
63.	<p>Как называется водный поток, вливающийся в реку?</p>		<ul style="list-style-type: none"> • Приток 	
64.	<p>Как называется движение двух судов, двигающихся навстречу друг другу?</p>		<ul style="list-style-type: none"> • Встречное плавание 	



65.	Какие действия необходимо предпринять судоводителю маломерного судна при выходе на судоходный участок реки из протоки?		<ul style="list-style-type: none"> • Уменьшить ход и быть готовым к маневрированию 	
66.	Выберите правильное определение термина «пеленг».		<ul style="list-style-type: none"> • Угол между направлением на север и направлением на объект 	
67.	Как называется угол между северным направлением меридиана и диаметральной плоскостью судна по направлению его движения?		<ul style="list-style-type: none"> • Истинный курс 	


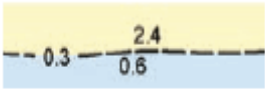

68.	Выберите правильное определение термина «курсовой угол».		<ul style="list-style-type: none">• Угол между диаметральной плоскостью судна и направлением на объект	
69.	Для чего из перечисленного ниже используется магнитный компас?		<ul style="list-style-type: none">• Снятие магнитного пеленга на объект	



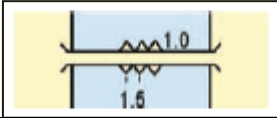

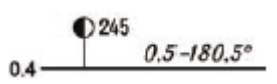




70.	Как называется угловая разница между направлением на истинный север и направлением на магнитный север?	?	<ul style="list-style-type: none">• Магнитное склонение	
71.	Как называется отклонение стрелки компаса от магнитного севера под влиянием внешних магнитных полей?	?	<ul style="list-style-type: none">• Девияция	


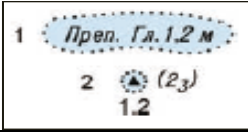

72.	Как называется направление на географический северный полюс?		<ul style="list-style-type: none">• Истинный север	
73.	Как называется угол между диаметральной плоскостью судна и направлением на истинный север?		<ul style="list-style-type: none">• Истинный курс	

74.	Как называется угол между диаметральной плоскостью судна и направлением на магнитный север?		<ul style="list-style-type: none">• Магнитный курс	
75.	Как называется отклонение движущегося судна от курса под влиянием ветра?		<ul style="list-style-type: none">• Дрейф	

76.	Как называется отклонение движущегося судна от курса под влиянием течения?		<ul style="list-style-type: none">• Снос	
77.	Как называется местоположение судна, полученное путем обработки результатов визуальных наблюдений различных ориентиров, положение которых известно?		<ul style="list-style-type: none">• Обсервованное	

78.	Пеленг на какой из объектов необходимо взять в последнюю очередь при определении места судна?	?	<ul style="list-style-type: none"> • На объект, находящийся на траверзе 	
79.	Лоция содержит сведения о...	?	<ul style="list-style-type: none"> • Средствах навигационного оборудования; • Глубинах, рельефе дна и грунте; • Основных портах и якорных местах 	
80.	О чем информирует судоводителя данное обозначение на карте района ВВП?		<ul style="list-style-type: none"> • Береговая линия 	
81.	О чем информирует судоводителя данное обозначение на карте района ВВП?		<ul style="list-style-type: none"> • Недостоверная береговая линия 	
82.	О чем информирует судоводителя данное обозначение на карте района ВВП?		<ul style="list-style-type: none"> • Скалистый берег 	

83.	О чем информирует судоводителя данное обозначение на карте района ВВП?		<ul style="list-style-type: none"> Скопление камней на берегу 	
84.	О чем информирует судоводителя данное обозначение на карте района ВВП?		<ul style="list-style-type: none"> Берег болотистый 	
85.	О чем информирует судоводителя данное обозначение на карте района ВВП?		<ul style="list-style-type: none"> Мост наплавной (понтонный) 	
86.	О чем информирует судоводителя данное обозначение на карте района ВВП?		<ul style="list-style-type: none"> Прижимное (навальное) течение 	
87.	О чем информирует судоводителя данное обозначение на карте района ВВП?		<ul style="list-style-type: none"> Основной судовой ход, километраж и курс 	
88.	О чем информирует судоводителя данное обозначение на карте района ВВП?		<ul style="list-style-type: none"> Участок судовой ход, где расхождение и обгон судов запрещены 	
89.	О чем информирует судоводителя данное обозначение на карте района ВВП?		<ul style="list-style-type: none"> Тросовая переправа 	
90.	О чем информирует судоводителя данное обозначение на карте района ВВП?		<ul style="list-style-type: none"> Зона и линия разделения движения в СРДС 	
91.	О чем информирует судоводителя данное обозначение на карте района ВВП?		<ul style="list-style-type: none"> Каналы УКВ радиосвязи и направление их действия 	

92.	О чем информирует судоводителя данное обозначение на карте района ВВП?		<ul style="list-style-type: none"> • Пункт снабжения судов топливом 	
93.	О чем информирует судоводителя данное обозначение на карте района ВВП?		<ul style="list-style-type: none"> • Подводное препятствие 	
94.	О чем информирует судоводителя данное обозначение на карте района ВВП?		<ul style="list-style-type: none"> • Граница опасности 	